

3、按图形的变化规律，在空白处填上所缺的图形（图形按一个方向依次变化）

1) ABCDE BCDEA CDEAB _____

2)  _____

题型三： 数字规律（寻找数字之间的规律，比如等差，或者增加相差）

1、根据规律在下面（ ）填上合适的数。（等差数列递增或递减）

1) 2 ， 4， 6， （ ）， （ ）， 12， 14

2) 1， 5， 9， 13， （ ）， （ ）， 25

3) 30， 25， 20 ， 15， （ ）， （ ）， 0

2、根据规律在下面（ ）填上合适的数。（进阶： 差递增或者递减）

1) 5 ， 7， 11， （ ）

2) 1， 6， 10， 13， 15， （ ）

3) 15， 14， 12 ， 9， 5， （ ）

3、根据规律在下面（ ）填上合适的数。（进阶： 差的忽大忽小，看相邻数）


1) 1 ， 2， 1， 4， 1， 6， 1， 8， （ ）， （ ）， 1， 12

2) 20， 3， 18， 4， 16， 5， （ ）， （ ）， 12， 7

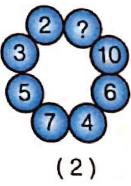

3) 2， 4， 3 ， 7， 4， 10， （ ）， （ ）， 6， 16

题型四： 数与图形的结合

1、根据规律在下面？ 内填上合适的数。（看数字规律以及位置关系：加和减）



2、根据规律在下面？ 填上合适的数。（按顺序差递增、递减或对面是倍数）



3、按规律，画出接下来的图形和数字

